








桃園市桃園區建德國小 112 學年度第一學期一年級數學領域 期末定期評量試卷

一年³ 班² 座號⁶： _____ 姓名²： _____

一、圈³圈³看³ (每個³答³案³ 2 分³， 共³ 10 分³)


1. 數³一³數³， 有³多³少³? 圈³圈³看³。



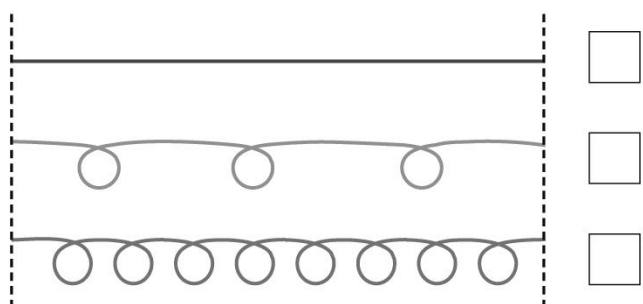
例 ³  ② 6 7	 3 4 5	 9 8 7
 3 4 5	 7 8 9	 6 5 4

二、比³比³看³ (每個³答³案³ 2 分³， 共³ 12 分³)

1. 由³高³到³矮³填³入³ 1、2、3。



2. 繩³子³由³長³到³短³填³入³ 1、2、3。



三、用³算³式³記³記³看³ (每³題³ 4 分³： 算³式³ 3 分³， 答³ 1 分³。 共³ 16 分³)

1. 水³池³裡³有³ 8 片³葉³子³， 撈³走³ 7 片³葉³子³後³， 水³池³裡³還³有³幾³片³葉³子³?
算³式³：

答³：() 片³葉³子³

2. 箱³子³裡³有³ 4 顆³籃³球³和³ 3 顆³足³球³， 箱³子³裡³一³共³有³幾³顆³球³?
算³式³：

答³：() 顆³球³

3. 小³美³買³了³ 2 枝³綠³豆³冰³棒³和³ 4 枝³草³莓³冰³棒³， 小³美³一³共³買³了³幾³枝³冰³棒³?
算³式³：

答³：() 枝³冰³棒³

4. 冰³箱³裡³有³ 7 瓶³果³汁³和³ 2 瓶³汽³水³， 果³汁³比³汽³水³多³幾³瓶³?
算³式³：


答³：果³汁³多³() 瓶³

四、選³擇³題³ (填³入³數³字³代³號³ ①、②、③或④) (每³題³ 2 分³， 共³ 12 分³)

() 1. 老³闆³做³了³ 9 個³蛋³糕³， 可³以³分³成³ 5 個³蛋³糕³和³幾³個³蛋³糕³?

- ① 4 個³ ② 3 個³ ③ 2 個³ ④ 1 個³


() 2. 下³面³的³愛³心³圖³案³， 要³再³畫³幾³個³心³， 才³會³剛³好³是³ 10 個³心³?



- ① 4 個³ ② 5 個³ ③ 3 個³ ④ 2 個³

【後面³還³有³題³目³喔³】

() 3. 小花 每天早上 6 點鐘起床，哪一個時鐘的時間是正確的？



() 4. 下方時鐘圖片，長針再走半圈後，是幾點半？

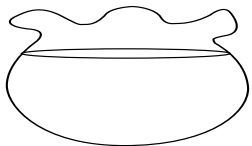
- ① 5 點半 ② 6 點半
③ 7 點半 ④ 8 點半



() 5. 排路隊時，哥哥的前面有 18 個人，哥哥排在第幾個？

- ① 第 17 個 ② 第 20 個
③ 第 18 個 ④ 第 19 個

() 6. 下方魚缸圖片，魚缸裡有幾條金魚？

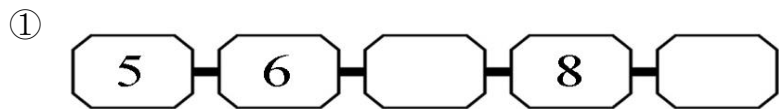


- ① 3 條 ② 0 條
③ 1 條 ④ 5 條

五、填填看看 (每個答案 2 分，共 12 分)

1. 冰箱裡有 3 顆蛋，放進 1 顆蛋，總共有 () 顆蛋；再放進 1 顆蛋，總共有 () 顆蛋。

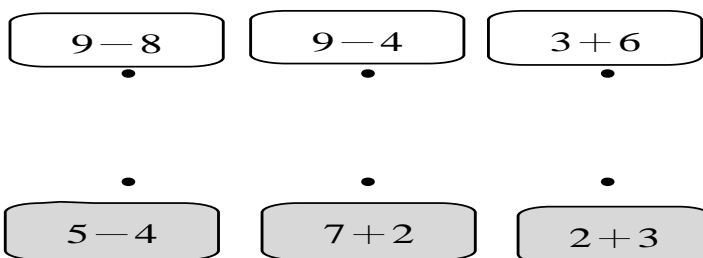
2. 按照順序，在空格填入數字。



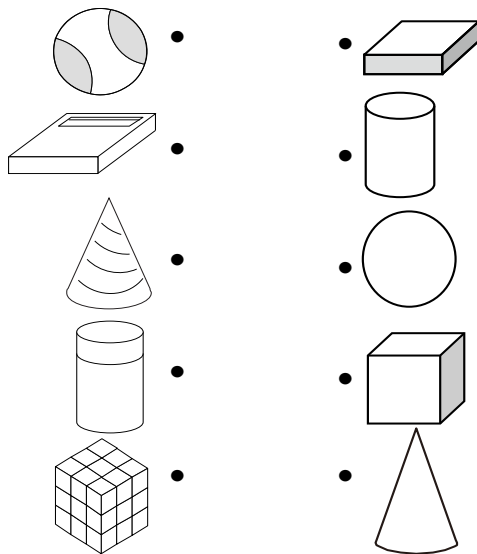
② $19 - 18 - () - 16 - ()$

六、連連看看 (每個答案 2 分，共 16 分)

1. 把答案一樣的東西連起來。




2. 把樣子很像的東西連起來。

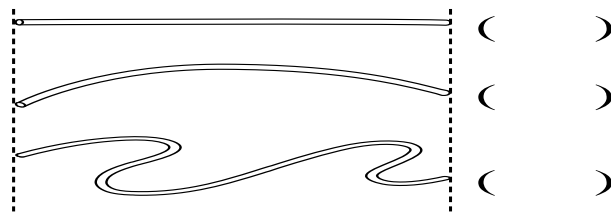


七、勾選題 (每題 2 分，共 12 分)

1. 在正確杯子數量的數字 () 打勾。



2. 最長的 () 打勾。



3. 比比看，最大的數打勾。

①	26	24	22
	()	()	()
②	13	17	19
	()	()	()
③	29	25	24
	()	()	()
④	10	30	20
	()	()	()

八、看看圖填填看看 (每格 2 分，共 10 分)

1. 一共有 () 串香蕉。



2.



(1) 從左邊數起， 是第 () 個，也可以說它是從右邊數起第 () 個。

(2) 從右邊數起， 是第 () 個，也可以說它是從左邊數起第 () 個。